

(C) برخه: د ځنګل اداره او مدیریت

دوهم لوست: د ونو اندازه کول یا اټکل کول

د زده کونکو د زده کړې موخې یا هدفونه:

- ددې لوست په پایله یا نتیجه کې به زده کونکي له لاندې موخو یا هدفونو سره اشنا شي:
1. هغه واحدونه چې عامه توګه د ځنګلاتو په اندازه کولو کې تر استفادې لاندې نیول کېږي، هغه تشریح او روښانه کړئ.
 2. د یوې ولاړې ونې قطر په څه ډول سره اندازه کولی شو، دا موضوع تشریح او روښانه کړئ.
 3. د ولاړو ونو لوړوالی یا اوچتوالی په څه ډول سره اندازه کیدلی شي، تشریح او رڼا پرې واچوئ.

د لوست ورکولو لپاره وړاندیز شوی وخت: ۲ ساعت

وړاندیز شوي منابع: لاندې منابع یا زیرمي کیدلی شي چې په دې لوست کې ګټوري واقع شي:

- دا درسي پلان آماده شوی او د پاور پوائنټ په پروګرام کې وړاندې کېږي
- <http://timberquote.com/education/howto/measure>

دلوازمو، وسایلو او ضرورت وړ موادو لست:

د لیکلو لپاره سپینه یا تشه ورقه یا تخته

د پاورپوائنټ لپاره پراجکتور (غټ بنودونکی)

د پاورپوائنټ سلایډونه

روښانه سلایډونه

بیلتمور لرګي (Biltmore Sticks)

اصطلاح ګانې: لاندې اصطلاح ګانې په دې لوست کې به تر استعمال لاندې راشي (ذکر شوي

اصطلاحات د پاورپوائنټ په ۲ شمیره سلایډ کې ارایه کېږي):

- ❖ Basal area قاعدوي ساحه
- ❖ Board foot مقیاس د اندازه کولو مقیاس تخته او الوار
- ❖ Breast height د انسان د سینې د حدودو په لوړوالی کې د ونې د تنې قطر
- ❖ Cord کپه، توده یا قیطان
- ❖ Cubic foot مکعب
- ❖ Cubit ذراع ، د طول پخوانی مقیاس چې د ۱۸ نه تر ۲۲ اینچو پوري وي

- ❖ Dbh د انسان د سینې د حدودو په لوروالی کې د ونې د تنې قطر
- ❖ Hypsometer ارتفاع سنجونکي یا اندازه کونکی
- ❖ Linear foot طولی فوت
- ❖ Merchantable height د خرخلاو وړ ارتفاع یا لوروالی
- ❖ Piece قطعه، دانه

په زړه پوري تگلاره: له په زړه پوري تگلار نه استفاده وکړئ ترڅو چې زده کونکي د لوست اخستلو لپاره آماده شي. ښوونکي اکثره تگلاري د خاصو ټولگيو او زده کونکو د شرایطو لپاره تهیه او ترتیب کوي. لاندې تگلاره کیدلی شي چې ديوې ښې ممکنه تگلاري په نامه سره ياده کړل شي:

په تخته باندې پورته د نبات حاصل، نفوس او نوعي وليکئ اوس له زده کونکو څخه غوښتنه وکړئ ترڅو دري واړه اصطلاح گاني تعريف کړي. له هغوي نه پوښتنه وکړئ چې دا اصطلاح گاني څه شی ته اشاره کوي؟ داسې انتظار او توقع کيږي چې د هغوي ځواب به دا وي چې: د دانو تولید. زده کونکو ته ووايست لکه څرنګه چې د دانې تولید اصطلاح لري، ځنګلونه هم د اصطلاح گانو لرونکي دي لکه د تولید اندازه کول. بحث د لوست د لومړۍ موخې يا هدف په لورر سوق کړئ.

د محتوياتو خلاصه يا لنډيز او د لوست يا درس ستراتيژي گاني

لومړۍ موخه يا هدف: هغه واحدونه چې په عامه توګه د ځنګلونو د اندازه کولو لپاره تر استفادې لاندې نیول کيږي، هغه تشریح کړئ.

(دپاورپواینټ ۲ شمیره سلايد)

۱ - د ونو اندازه کول په هره یوه ونه کې د لرگیو د حجم د تشخیص او ټاکنې لپاره لازمي او ضروري وي. د انفرادي ونو د اندازه مجموعه او د هغې حجمونه د ټولو ولاړو تیرونو د موجودۍ يا شتون لست برابروي.

(دپاورپواینټ ۴ شمیره سلايد)

د تیر يا چهارتراش (Timber) ونې د اندازه کولو د مختلفو نوعو پواسطه سره اندازه کيږي. ځني له دي واحدونو څخه د لرگی تر صنعت پوري مشخص يا ځانګړي وي په داسې حال کې چې ځني واحد د لرگی د عمومي اندازه کولو لپاره تر استفادې لاندې نیول کيږي.

(دپاورپواینټ ۲ شمیره سلايد)

الف) (Metric Board foot) میټریک بورډ فټ، د اندازه کولو له واحد نه عبارت دی چې دي و ناهموار لرگی پواسطه چې ۰،۳۰۴۸ مترمربع او ۲،۵۴ سانتی متره ډیلوالی په نښه کوي. په بله

اصطلاح يو متریک بورډ فټ (board foot) مساوي کيږي په ۰،۰۹۲۹ مترمربع سره. بورډ فوټ په عمومي توګه د هغه الوارو د اندازه کولو لپاره په کار وړل کيږي چې د اړه کشی او د تیر د لرگی د نازکو تختو لپاره استعمالیږي. په جلا لرونکو او رنگه لرگیو کې عرض او ډبلوالی په مخکنیو اندازو باندې مېني له رنگ او جلا څخه حسابیږي .

(دپاورپواینټ ۶ شمیره سلايد)

(ب) متر مکعب (Cubic meter)، د اندازه کولو له واحد نه عبارت دی چې د یو مکعب ناهمواره لرگی د حجم سره په طول د ۰،۳۰۴۸ متره په هرې یو شپږو غاړو کې وي. یو مترمکعب شامل ده په ۴۲۲،۷۷ بورډ متر سره. د اندازه کولو له دې واحد څخه د هر نوعه لرگی یا تیر یا چهارتراش لپاره استفاده کيږي.

(دپاورپواینټ ۷ شمیره سلايد)

(ج) کبه (Cord) د لرگو له یوې تودې یا ډیرې نه د منځنۍ فضا په شمول عبارت دی، چې د $۱،۲ \times ۲،۴ \times ۱،۲$ یا $۲،۶۳$ مترمکعب اندازه په ګوته کوي یا ښايي. کبه یا قیطان د کاغذي نرم لرگی (pulpwood) د اندازه کولو لپاره په کار وړل کيږي.

(دپاورپواینټ ۸ شمیره سلايد)

(د) (Cubit) د لرگی توده چې په ۲،۸ مترمکعب لرگی سره یې منځ ډک شوی وي (منځ خالي نه وي)

(دپاورپواینټ ۹ شمیره سلايد)

(ل) دانه (Piece) د اندازه کولو واحد دی چې د مشخصو یا ځانګړو ابعادو لرگی اندازه کوي یا یې شمیري

(دپاورپواینټ ۱۰ شمیره سلايد)

(ن) طولی متر (Linear meters) د اندازه کولو له واحد نه عبارت دی چې د یو تولید اوږدوالی یا طول اندازه کوي. معمولاً له ۲ مترمکعب حجم نه عبارت دی.

(دپاورپواینټ ۱۱ شمیره سلايد)

(ق) د ساقې ښکتنۍ ساحه (Basal area) د اندازه کولو له واحد نه عبارت دی چې د موجوده ولاړ لرگی د سطحې د ښودلو لپاره په کار وړل کيږي. د ونو د مقطع د سطحې له ساحې (cross-sectional) نه د سینې د لوړوالی په اندازې سره عبارت دی چې ۱،۳ متره د ځمکې له منځنۍ خط څخه پورته قرار یا ځای ولري. قاعدوي ساحه (Basal area) په فوټ مربع سره ښودل کيږي. په انفرادي ونو کې هم په کار وړل کيږي، او یا شاید ټولو هغه ونو ته چې د هکتار په اساس ښودل شوي وي، په کار وړل کيږي.

****د 1-2C درسي يا لوستي مواد يا د پاور پواينټ ۱۲ شميره سلايد د گټور موادو په شکل سره د بحث په توگه تر استفادې لاندې ونيسئ. په دې برخه کې ددې لپاره چې دا اصطلاح گانې په کوم ځای کې په کار وړل کېږي بحث او خبرې اترې وکړئ.**

دوهمه موخه يا هدف: د ولاړې ونې قطر په څه ډول سره اندازه کولی شو، دا موضوع تشریح او روښانه کړئ.

(دپاورپواينټ ۱۲ شميره سلايد)

۲ - د ولاړې ونې قطر معمولاً د ځمکې له سطحې نه ۱،۳ متره پورته اندازه کېږي. چې په نامه د dbh سره شهرت لري. د ونې د قطر اندازه کونکې (Diameter) د ونې د پوستکې له بیرون څخه صورت نیسي چې وروسته د ونې د پوستکې ډېلوالی له هغې نه منفي کېږي. د ونو قطرونه معمولاً حتي په ۵ سانتي متر کې ثبت او درج کېږي ترڅو د حجم په ټاکنه يا تعين کې مرسته وکړي.

(دپاورپواينټ ۱۴ شميره سلايد)

(الف) (diameter tape) د قطر فېته د ونې د اندازه کولو لپاره يوه ډیره دقیقه وسیله ده. فېته درجه بندي شوي ده ترڅو چې هر اینچ د قطر په غاړو کې دقیقاً ۷،۹۷۶۶ سانتي متره طول وي. داچې فېته په دې طریقي سره درجه بندي شوی ده، نو د گردې لاري يا مسير اندازه کول يا د ونې د محیط قطر تشکیلوي.

(دپاورپواينټ ۱۵ شميره سلايد)

(ب) د قطر فېتي ته ورته يامشابه يو تخنيک چې مخکې ورڅخه يادونه وشوه، د ونې قطر په تخميني يا آپکلي توگه د بلتمورستيک (Biltmore stick) پواسطه هم اندازه کېدلی شي. دا کړنلاره يا پروسيجر د مثلثاتو په ورته هندسي اصولو باندې ولاړ دی، چې د هغې د اندازه کولو مقياس په لرگي باندې په منظمه توگه درجه بندي شوی ترڅو چې مستقيماً په سانتي متر کې مطالعه شي. لرگی په افقي شکل سره د بازو د طول په اندازې (۶۳ سانتي متره له سترگی نه وړاندې) او ۱،۳ متره د ځمکې له سطحې نه پورته ونيسئ. د ونې په يوه غاړه کې د بلتمورستيک (Biltmore stick) لرگی د ونې په مقابل کې ځای په ځای کړئ، او يوه سترگه مو پټه يا وتړئ. له دې نه په غير چې سترگه مو حرکت يا ټکان وخوري، د ونې قطر مطالعه کړئ ترڅو معلومه شي چې د ونې د بني لوري کومه نقطه، لرگی قطع کوي.

له TM: C2-2 درسي يا لوستي موادو نه په استفادي سره او يا هم د پاور پوائنټ د ۱۶ شميري سلايد مشاهده يا وگورئ چي له بلتمور ستيک (Biltmore stick) څخه د ونو د قطر په اندازه کولو کي په څه ډول سره کار اخستل کيدلی شي. د TM: C2-3 درسي يا لوستي مواد يا د پاورپوائنټ ۱۷ شميره سلايد د بلتمورسټيک (Biltmore stick) له لرگي څخه د استفاده کولو طريقه روښانه او توضيح کوي، زده کونکو ونو ته نژدي يوسئ او کوبنسبن دي وشي ترڅو هغوي دا تخنيک په کار واچوي.

دريمه موخه يا هدف: د ولاړو ونو لوړوالی يا ارتفاع په څه ډول سره اندازه کيدلی شي، دا موضوع روښانه او تشریح کړئ.

(دپاورپوائنټ ۱۸ شميره سلايد)

۳ - د ونې ارتفاع يا لوړوالی په فوت يا د کندو په شميرلو سره اندازه کيدلی شي. ونه د کلي ارتفاع په اساس او يا د هغې د خرڅلاو د کندو په ارتفاع اندازه کيدلی شي.

(دپاورپوائنټ ۱۹ شميره سلايد)

د خرڅلاو او ارتفاع يا لوړوالی (Merchantable height) د يو مشخص يا ځانگړی تولید د لوړوالی يا ارتفاع له استفادې کولو څخه عبارت دی چي د ونې له بيخ (stump) څخه ترد برش له نقطې پوري نوکې ته نژدې اندازه کيږي.

(دپاورپوائنټ ۲۰ شميره سلايد)

(cut-off point) د برش نقطه په هغه ځای کي قرار يا ځای لري چي دساقې قطر په اعظمي حد اندازې سره د تولید په خاطر چي غوښتل شوی له ونې نه قطع يا پري شي، رسيدلی وي. د خرڅلاو وړ ارتفاع چي د اړه کشی لپاره مناسبه وي د ۴،۸ متره ونو د کندو پواسطه او نيمه کندو پواسطه چي له ونې نه پري شوي وي، تعين يا ټاکل کيږي.

(دپاورپوائنټ ۲۱ شميره سلايد)

د برش نقطه (cut-off point) د اړه کشی لپاره د مناسبو ونو لپاره له ۱۵ سانتي مترو نه تر ۲۵ سانتي مترو پوري تفاوت کوي. د خرڅلاو وړ ارتفاع يا لوړوالی د نرم کاغذ له ونو سره معمولاً په نژدې طول ورکړ شوی بولټ کي د کاغذ نرم لرگی (pulpwood) حسابيږي. شايد چي ۱،۲ متره وي، شايد ۱،۵، ۱،۶، ۱،۷ متر وي البته د کاغذ د ژرندې په پام کي نيولو سره. د برش نقطه د کاغذ د نرم لرگی (pulpwood) لپاره په عمومي توگه ۱۰ سانتي متره وي.

(دپاورپوائنټ ۲۲ شميره سلايد)

الف) يوه بله آله چي د ونې د ارتفاع يا لوړوالی د اندازه کولو لپاره په کار وړل کيږي عبارت ده له ارتفاع يا لوړوالی سنجونکی (hypsonometer) څخه. ارتفاع سنجونکی (hypsonometer) د ونې د کندې په طول سره

درجه بندي شوی دی. په نورماله توگه په پري شويو لرگيو باندې د ونو د مقیاس خط پیدا کيږي. د ونو د لرگيو اکثره مقیاسونه د حجم د جدول لرونکي وي چي د هغې په عریضه غاړه کي نوشتنه یا لیکل شوي وي. د ونې متریک لرگی (metric tree stick) تر د ۴۵ مترو ارتفاع پوري تر ۵ متره د کندې طول اندازه کوي. د طول یا اوردوالی اندازه کول له صفر نه تر ۱۰۰ سانتي مترو پوري په مسلسل شکل سره درجه بندي شوی دی.

** ددي لپاره چي د عنوان د بحث په برخه کي مرستې صورت نیولی وي له درسي موادو او یاهم د پاورپوینت له ۲۳ شمیري سلايد څخه اسفاده وکړئ. که چیر تاسې د ونې لرگی ته لاسرسی ولری نو زده کونکي ونو ته نژدې یوسئ او له هغوي نه غوښتنه وکړئ ترڅو چي د ونو ارتفاع یا لوروالی اندازه کړي.

مرور\خلاصه(لنډيز): ددي لوست د خلاصې یا لنډيز لپاره د زده کونکو له زده کړو موخو څخه استفاده وکړئ، زده کونکي د هري موخې یا هدف پوري مربوطه تشریح ته وغواړئ. د زده کوکو له ځوابونو څخه کولی شی چي د موخو یا هدفو د اساس په شکل چي باید تجدید نظر شي یا له مختلفي زاوي څخه تدریس شي، استفاده وکړئ. کوم سوال یا پوښتنه چي د پاور پوینت په ۲۴ شمیره سلايد کي ذکر شوي دي کولی شی په دي برخه کي له هغې نه استفاده وکړئ.

تطبيق: د یوې ونې سروی چي د ښوونځی حویلی یا انگر کي او یا هم د ښوونځی ساحې سره نژدي وي اجرا کړئ. د نژدې ساحې له یو ځنگل ساتونکی څخه غوښتنه وکړئ ترڅو راشي او کړنلاره په عملي توگه د زده کونکو لپاره تشریح او روښانه کړي.

ارزیابی: په دې برخه کي کولی شی چي له نمونې ازمویښ څخه د زده کونکو د موخو سره د اشنا کیدلو په خاطر، استفاده وکړي. ساده په لیکلې بڼه ازمویښ له دې سند سره پیوسته، وړاندی شوی ده.

نمونه ئي ازمویښ ته ځوابونه

لومړی برخه: تش یا خالي ځایونه ډک کړئ

1. h
2. f
3. e
4. b
5. d
6. a
7. g
8. c

دوهمه برخه: لنډ ځواب

- .1 diameter tape د قطر فېته
- .2 stem diameter ساقې قطر
- .3 breast height; dbh د سينې په اندازه ارتفاع يا لوروالی

نمونه ئي ازمويڼه

نوم: _____

ازمويڼه

دوهم درس يالوست: د ونو اندازه کول يا سنجول (آټکل کول)

دادن لومړۍ برخه (قسمت): مطابقت ورکول

رهنمايي (لارښوونه): اصطلاح د درست يا صحيح ځواب په مطابق وړاندې کړئ. د اصطلاح توري نظر د هغې په تعريف سره وليکئ.

.a	Basal area	د ساقې بنکتنۍ ساحه يا قاعده
.b	Cord	توده يا کپه
.c	Hypsometer	ارتفاع سنجونکي
.d	Merchantable height	د خرڅلاو وړ ارتفاع يا لوړوالی
.e	dbh	
.f	Board foot	بورډ فوټ
.g	Cubic foot	فوټ مکعب
.h	Linear foot	طولی فوټ

- ۱ - د اندازه کولو هغه واحد جي د شيانو طول په متر سره شايي. معمولاً تقريباً د ۷۲ مترمکعب حجم (تقريباً ۲ مترمکعب) نه عبارت دی.
- ۲ - د اندازه کولو له واحد نه عبارت دی چي د يو ناهمواره لرگی پواسطه ۰،۳۰۴۸ مترمربع او ۲،۵۴ سانتي متر ډبلوالی په گوته کوي يا بنايي. په بل اصطلاح سره يو متریک بورډ فوټ.
- ۳ - د سينې په ارتفاع يا لوړوالی سره قطر.
- ۴ - د لرگیو په منځ د فضا د شتوالی په شمول د لرگیو له ډيری يا تودې نه عبارت دی چي ۱،۲ x ۲،۴ x ۱،۲ مترمکعب اندازه بنايي يا په گوته کوي. کپه يا قيطان د کاغذ د نرم لرگی (pulpwood) د اندازه کولو لپاره په کار وړل کيږي.
- ۵ - د يو مشخص توليد څخه د ارتفاع يا لوړوالی د استفاده کولو نه عبارت دی چي د ونې له بيخ (stump) څخه تر د برش نقطې پوري د نوکې سره نژدې اندازه کيږي.
- ۶ - د اندازه کولو له واحد نه عبارت دی چي د ولاړ لرگی د موجوده سطحې د ښودلو لپاره په کار وړل کيږي.
- ۷ - د اندازه گيری له واحد نه عبارت دی چي مساوي دی د ناهموار لرگی له يو مکعب حجم سره په طول د ۰،۳۰۴۸ متره په هر شپږو غاړو کي وي. يو متر مکعب شامل وي په ۴۲۳،۷۷ بورډ متر سره. له دې واحد څخه د هرنوعه تير يا چهار تراش لرگی د اندازه کولو لپاره استفاده کيږي.
- ۸ - هغه آله ده چي دونې د ارتفاع يا لوړوالی د اندازه کولو لپاره په کار وړل کيږي.

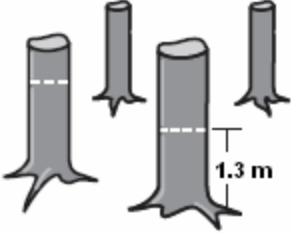
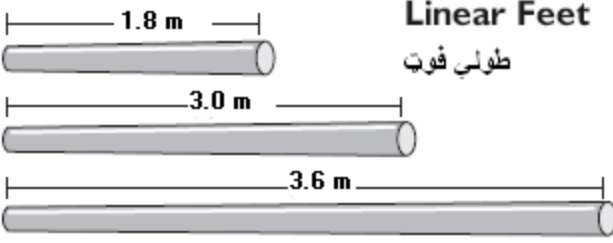
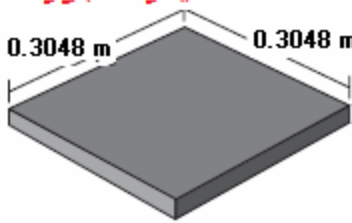
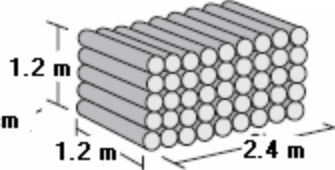
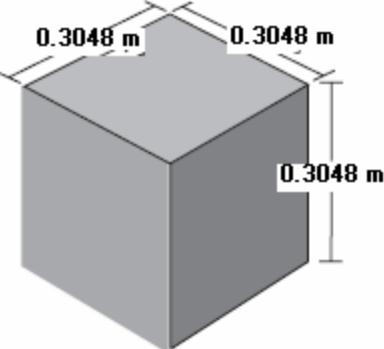
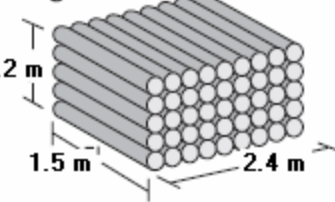

دوهمه برخه: تکميل يا بشپړ کول

رهنمايي (لارښوونه):

د لاندې جملو د تکميل يا بشپړ کولو لپاره کلمي يا کلمه برابره کړئ!

۱. _____ د ونې د قطر د اندازه کولو لپاره له ډير دقيقې آلې نه عبارت دي.
۲. (cut-off point) د يوې ونې د برش نقطه په هغه ځای کې موقیعت لري چې _____ د تولید په خاطر په اعظمي حد کې ځای ولری له ونې څخه قطع يا پري شي، رسيدلی وي. د خرڅلاو وړ ارتفاع يا لوړوالی د اړه کښی لپاره مناسب د ۲،۸ متره د ونې د کڼدو پواسطه او نیمه کڼدو پواسطه چې له ونې نه پري کيږي، تعین کيږي.
- ۳ - د ولاړو ونو قطر په ډيره عامه توگه په _____ سره اندازه کيږي چې په نامه د _____ سره هم مشهور دی.


TM: C2-1

<p>Basal Area د ساقې بشکنتې ساحه</p> <p>Square feet of all trees measured at dbh on a hectare</p> 	<p>Linear Feet طولې فوټ</p> 
<p>مټریک بورډ فوټ</p> 	<p>Standard Cord معیاري کپه</p>  <p>طولاني کپه</p>
<p>Cubic Meter متر مکعب</p> 	<p>Cord توده يا کپه</p>  <p>Kilograms کیلوگرام</p> 

بلتمور ستيڪ (Biltmore stick)

1. لرگی په افقي توگه د بازو د طول په اندازه (له سترگې څخه ۶۳ سانتي متره وړاندې) او ۱،۲ متره د ځمکې له سطحې نه پورته ونیسي.
2. د ونې په يوه لوري کې د بلتمور ستيڪ (Biltmore stick) لرگی چې طرف ته د ونې په مقابل کې ځای ورکړی، او يوه سترگه مو بنده کړی.
3. له دې څخه په غير چي سر ته حرکت يا ټکان ورکړی، د ونې قطر مطالعه کړي ترڅو معلومه شي چې د ونې د بني لوري کومه نقطه، لرگی قطع يا پري کوي.

له بلمور ستیک (Biltmore stick) نه په استفادي سره د قطر اندازه کول



د ارتفاع سنجونکی (hyprometer) دا اندازه کولو لپاره نمونې يا بيلگې

